


A blue cartoon number 5 with a face, eyes, and hands, standing on purple feet.A teal cartoon number 7 with a face, eyes, and hands, standing on yellow feet.A purple cartoon number 6 with a face, eyes, and hands, standing on yellow feet.An orange cartoon number 8 with a face, eyes, and hands, standing on red feet.

**Числа от 1 до 100.  
Сложение и  
вычитание  
(устные приёмы).  
Часть 1**

**Математика. 2 класс**  
**Тест 2**

## Вопрос № 1

Какое четвёртое число следует за числом 25?

<b>A</b>	<b>B</b>	<b>C</b>	<b>D</b>
<b>30</b>	<b>29</b>	<b>28</b>	<b>21</b>

## Вопрос № 2

В каком выражении ответ 19?

<b>A</b>	$(13 - 6) + 9 =$
<b>B</b>	$(8 + 7) + 4 =$
<b>C</b>	$6 + (14 - 9) =$
<b>D</b>	$(14 - 7) + 13 =$

### Вопрос № 3

Какое число нужно вставить в окошко, чтобы запись была верной?


$$12 - 7 = 11 - \square - 3$$



5



8



3



6

## Вопрос № 4

Дан треугольник со сторонами 5 см, 6 см, 7 см.  
Найди его периметр.

<b>A</b>	<b>B</b>	<b>C</b>	<b>D</b>
<b>11</b>	<b>13</b>	<b>16</b>	<b>18</b>

## Вопрос № 5

Какое число получится, если к числу 30 прибавить разность чисел 5 и 2 ?

<b>A</b>	<b>B</b>	<b>C</b>	<b>D</b>
<b>35</b>	<b>37</b>	<b>33</b>	<b>27</b>

## Вопрос № 6

Длина зелёного отрезка 9 см, красного на 3 см меньше, чем зелёного, а синего на 6 см больше, чем красного. Найди длину синего отрезка.

<b>A</b>	<b>B</b>	<b>C</b>	<b>D</b>
<b>15</b>	<b>12</b>	<b>9</b>	<b>16</b>

## Вопрос № 7

Найди значение выражения:

$$56 - 50 + 7 - 5 - 8 =$$

<b>A</b>	<b>B</b>	<b>C</b>	<b>D</b>
<b>6</b>	<b>4</b>	<b>2</b>	<b>0</b>



## Вопрос № 8

Найди закономерность и продолжи ряд чисел.

1, 3, 2, 4, 3, ...

<b>A</b>	<b>B</b>	<b>C</b>	<b>D</b>
<b>5</b>	<b>4</b>	<b>3</b>	<b>2</b>

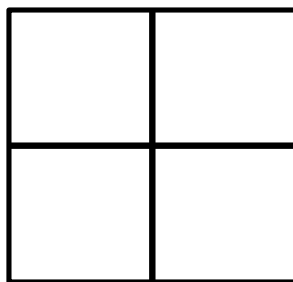
## Вопрос № 9

Таня построила ломаную из трёх звеньев. Длина ломаной 18 см. Какой длины могут быть звенья ломаной, которую построила Таня?

<b>A</b>	<b>B</b>	<b>C</b>	<b>D</b>
<b>9, 9</b>	<b>8, 7, 3</b>	<b>5, 6, 4</b>	<b>7, 9, 1</b>

## Вопрос № 10


Сколько квадратов на чертеже?



5



4



6



8

## Источники

<http://puzkarapuz.org/81464-ramka-veselaya-matematika.html>-рамка

Дмитриева О. И., Мокрушина О.А.

Поурочные разработки по математике: 2 класс. К учебному комплексу М.И. Моро- М.: ВАКО, 2005.- 400с.- (В помощь школьному учителю)